

1ねん たしざん(1)

なまえ

くみ

ばん

べんきょうしたひ

1つ 10てん

がつ

にち

てん

✎ たしざんを しましょう。

$$\textcircled{1} 3 + 2 = 5$$

ひんと



$$\textcircled{2} 2 + 4 = 6$$

ひんと



$$\textcircled{3} 5 + 3 = 8$$

$$\textcircled{4} 1 + 6 = 7$$

$$\textcircled{5} 7 + 2 = 9$$

$$\textcircled{6} 4 + 4 = 8$$

$$\textcircled{7} 4 + 1 = 5$$

$$\textcircled{8} 3 + 6 = 9$$

$$\textcircled{9} 8 + 2 = 10$$

$$\textcircled{10} 5 + 5 = 10$$

1ねん

ひきざん(1)

なまえ

くみ

ばん

べんきょうしたひ

1つ10てん

がつ

にち

てん

ひきざんを しましょう。

① $4 - 2 = 2$

② $2 - 1 = 1$

ひんと



ひんと



③ $5 - 3 = 2$

④ $8 - 5 = 3$

⑤ $6 - 2 = 4$

⑥ $9 - 4 = 5$

⑦ $3 - 2 = 1$

⑧ $7 - 4 = 3$

⑨ $10 - 6 = 4$

⑩ $10 - 1 = 9$

1ねん

10より おおきい かず

なまえ

くみ

ばん

べんきょうしたひ


1つ 10てん

がつ


にち

てん


① □ に かずを かきましよう。




14



18



13



20

② かずの おおきい ほうに ^{まる}○ を つけましよう。⑤

7	16
---	----

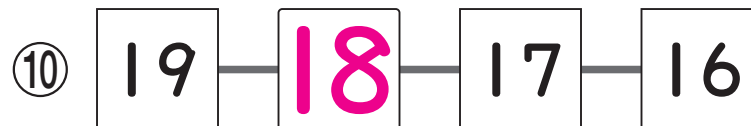

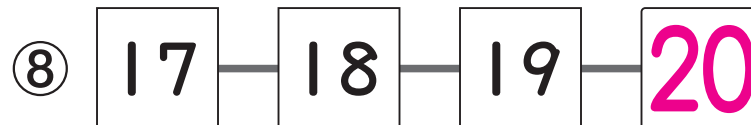
()	(○)
-----	-------

⑥

20	15
----	----

(○)	()
-------	-----

③ □ に かずを かきましよう。



1ねん

3つの かずの けいさん

なまえ

くみ

ばん

べんきょうしたひ

1つ 10てん

がつ

にち

てん

 けいさんを しましょう。

$$\textcircled{1} \quad 3 + 2 + 1 = 6$$


5

ひんと

はじめに $3 + 2$ を して

5


5

$$5 + 1 = 6$$

$$\textcircled{2} \quad 1 + 4 + 3 = 8$$

$$\textcircled{3} \quad 2 + 8 + 5 = 15$$

$$\textcircled{4} \quad 9 - 3 - 4 = 2$$

$$\textcircled{5} \quad 16 - 6 - 7 = 3$$

$$\textcircled{6} \quad 8 - 5 + 2 = 5$$

$$\textcircled{7} \quad 10 - 2 + 1 = 9$$

$$\textcircled{8} \quad 10 - 7 + 3 = 6$$

$$\textcircled{9} \quad 5 + 4 - 6 = 3$$

$$\textcircled{10} \quad 9 + 1 - 5 = 5$$

1ねん

どちらがながい

なまえ

くみ

ばん

べんきょうしたひ

1つ 20てん

がつ

にち

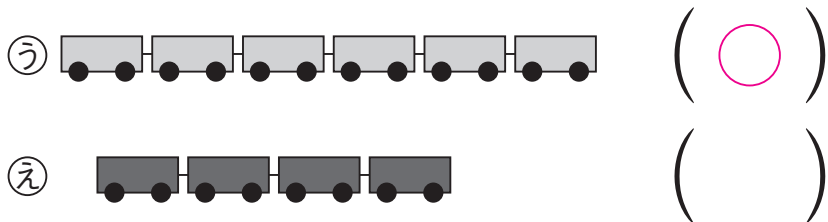
てん

1 どちらがながいでしょうか。
ながいほうに ^{まる}○をつけましょう。

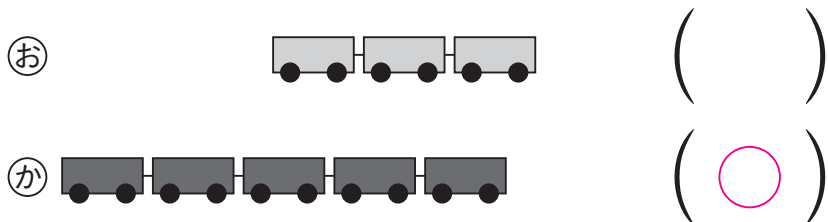
①



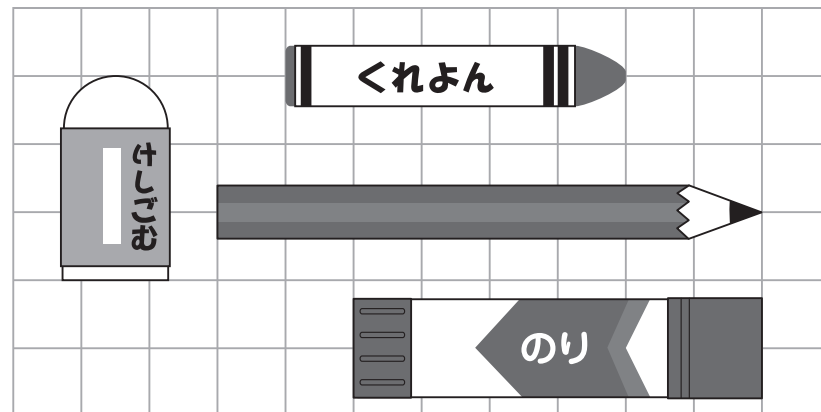
②



③



2 えをみてこたえましょう。



④ いちばんながいものに ^{まる}○をつけましょう。

けしごむ () くれよん ()

えんぴつ () のり ()

⑤ いちばんみじかいものに ^{まる}○をつけましょう。

けしごむ () くれよん ()

えんぴつ () のり ()

1ねん

どちらが おおい

くみ	ぼん	べんきょうしたひ	1つ 25てん
なまえ		がつ	にち
			てん

① みずの かさを くらべます。
 どちらが おおく はいりますか。おおく
 はいる ほうに ^{まる}○を つけましょう。

① → ^{なべ}
 こっぷで 6はい (○)

→ ^{ぽっと}
 こっぷで 4はい ()

② → ^{びん}
 こっぷで 3はい (○)


→ ^{かん}
 こっぷで 1はい ()

② みずが おおく はいる じゅんに
 ③ あ～かを かきましよう。

③ ^あ →

^い →


^う →



④ ^え →

^お →

^か →



1ねん

たしざん(2)

なまえ

くみ

ばん

べんきょうしたひ

1つ10てん

がつ

にち

てん

たしざんを しましょう。

① $9 + 8 = 17$

10

1

7

② $5 + 6 = 11$

5

1

⑦ $8 + 5 = 13$

③ $8 + 7 = 15$

④ $9 + 2 = 11$

⑧ $7 + 7 = 14$

⑤ $7 + 6 = 13$

⑥ $8 + 8 = 16$

⑨ $3 + 9 = 12$

⑩ $6 + 6 = 12$

1ねん

ひきざん(2)

なまえ

くみ

ばん

べんきょうしたひ

1つ10てん

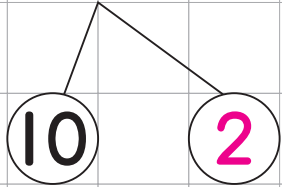
がつ

にち

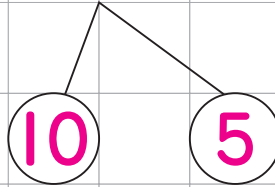
てん

ひきざんを しましょう。

① $12 - 9 = 3$



② $15 - 7 = 8$



③ $11 - 2 = 9$

④ $12 - 6 = 6$

⑤ $14 - 7 = 7$

⑥ $17 - 9 = 8$

⑦ $11 - 4 = 7$

⑧ $13 - 8 = 5$

⑨ $14 - 5 = 9$

⑩ $16 - 9 = 7$

1ねん

20より おおきい かず

なまえ

くみ

ばん

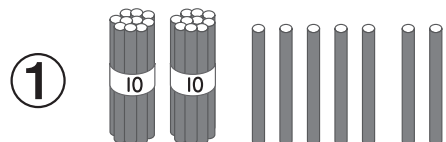
べんきょうしたひ

1つ 10てん

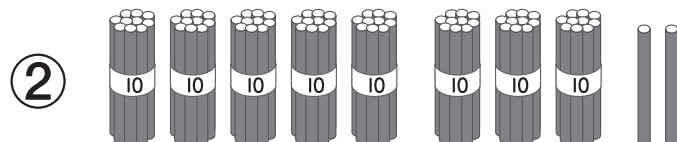
がつ

にち

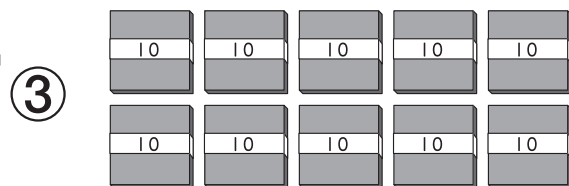
てん

① に かずを かきましよう。

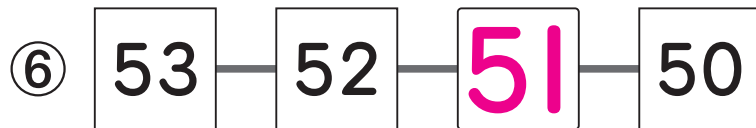


27



82



100

② に かずを かきましよう。

⑦ 10が 4 ことで 40, 1が 3 ことで 3,
40と 3で .

⑧ 10が 6 ことで .

⑨ 75は, 10が 7 こと 1が こ。


⑩ 80は, 10が こ。

1ねん


なんじなんぷん

くみ	ばん	べんきょうしたひ	1つ 10てん
なまえ		がつ	にち
			てん


1 なんじなんぷんですか。




6じ10ふん




3じ47ふん




9じ25ふん



1じ40ふん




12じ33ふん




4じ58ふん


2 なんじなんぷんですか。★せん でむすびましょう。




11じ6ふん



8じ15ふん



2じ53ふん



5じ20ふん

